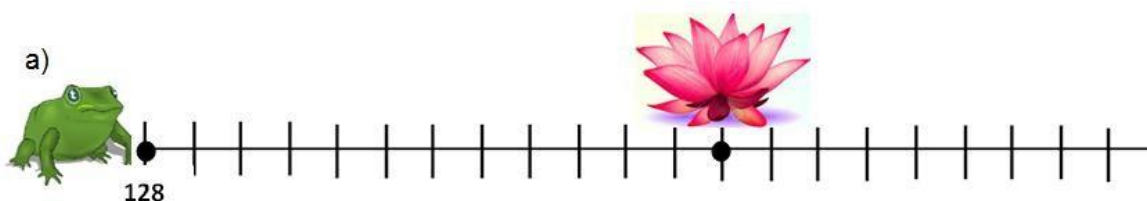
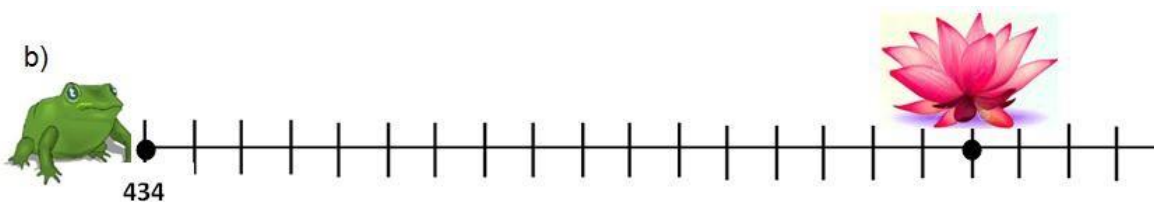


**Objetivo:** Contar a partir de cualquier número y en secuencias usando la tabla de 100.

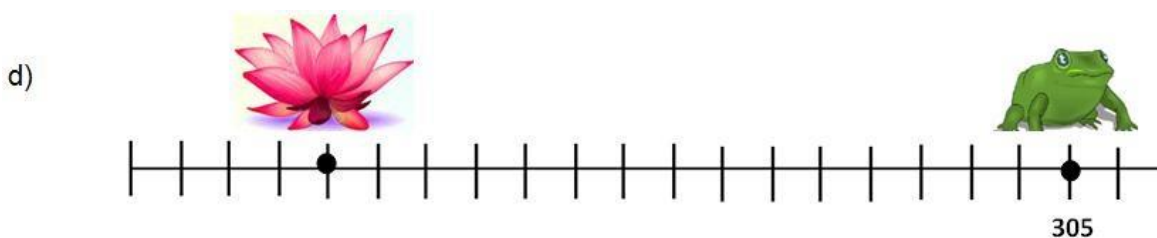
1. La rana Pancracia, salta de flor en flor toda la mañana. Escribe el número de saltos que debe dar Pancracia para llegar a la flor y el número en el que se encuentra la flor:



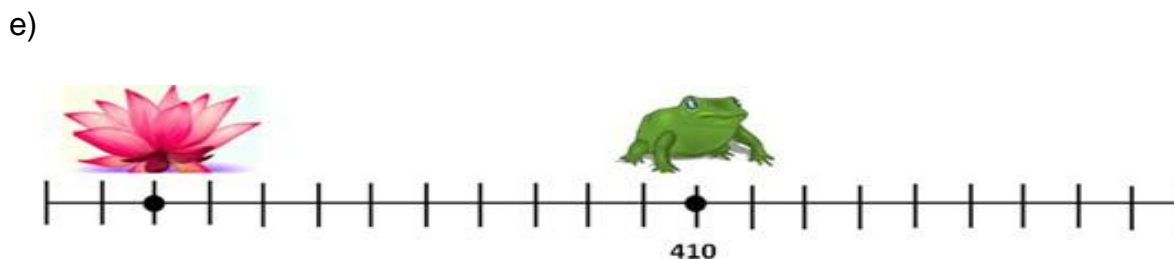
Pancracia dio \_\_\_\_\_ saltos y llegó al \_\_\_\_\_



Pancracia dio \_\_\_\_\_ saltos y llegó al \_\_\_\_\_



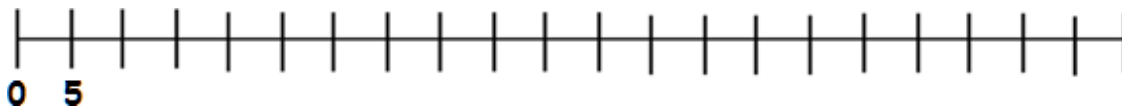
Pancracia dio \_\_\_\_\_ saltos y llegó al \_\_\_\_\_



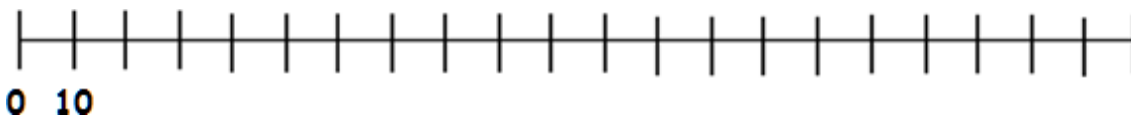
Pancracia dio \_\_\_\_\_ saltos y llegó al \_\_\_\_\_

2. Escribe los números en la recta numérica como se indica en cada caso y luego lee los números en voz alta:

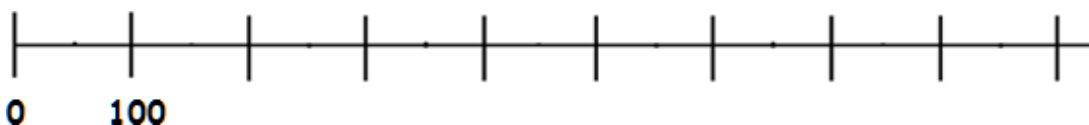
a) Representa una recta numérica con números de 5 en 5, puedes apoyarte usando la tabla para contar:



b) Representa una recta numérica con números de 10 en 10, puedes apoyarte usando la tabla para contar:



c) Representa una recta numérica con números de 100 en 100.



### Instrucciones:

1. Lee la página 23 de tu texto y luego desarrolla las páginas 24, 25 y 26. En caso de no contar con el texto escolar, puede descargarlo desde [www.aprendoenlinea.cl](http://www.aprendoenlinea.cl)
2. Pega la guía en tu cuaderno.



# Colegio Ignacio Carrera Pinto



---

Prat 4917 – Av. Eastman 3391 Olmué